

JMÉNO:


DATUM:

POČETNÍ OPERACE S JEDNOTKAMI OBJEMU, POČÍTÁME V MILILITRECH, CENTILITRECH
OZNAČ BAREVNĚ OBRÁZEK, KDE JE VÍCE ML, NEBO CL A JEJICH POČET NAPIŠ DO RÁMEČKU.

OČNÍ KAPKY



4 ml



OČNÍ KAPKY




6 ml

INJEKČNÍ STŘÍKAČKA



5 ml



INJEKČNÍ STŘÍKAČKA




2 ml

KAPKA VODY



2 ml



KAPKA VODY




1 ml

LAK NA NEHTY



8 ml



LAK NA NEHTY



10 ml

ODMĚRKY NA ALKOHOL



4 cl



ODMĚRKA NA ALKOHOL



2 cl

NEMOCNÝ PACIENT DOSTÁVAL V NEMOCNICI KAŽDÝ DEN O 1 MILILITR VĚTŠÍ DÁVKU LÉKŮ. DOPLŇ ČÍSELNOU ŘADU: + 1

1ml



PONDĚLÍ

ÚTERÝ

STŘEDA

ČTVRTEK

PÁTEK

SOBOTA

NEDĚLE

1 ml

..... ml

..... ml

..... ml

..... ml

..... ml

..... ml

PADAL HUSTÝ DÉŠŤ, ZAKRUŽKUJ NEJVĚTŠÍ KAPKU.



1 ml



2 ml



5 ml



10 ml



6 ml



3 ml



8 ml

DO AMERICKÉ LIMONÁDY DAL BARMAN 2 CL CITRÓNOVÉ ŠŤÁVY A 3 CL VIŠŇOVÉ ŠŤÁVY. KOLIK CENTILITRŮ ŠŤÁVY DAL CELKEM DO AMERICKÉ LIMONÁDY?



2 cl

+



3 cl

=

..... cl

ZAKROUŽKUJ 2 STEJNÉ ODMĚRKY S KAPALINOU.

